
 Минобрнауки России МИРЭА – Российский технологический университет	Вступительное испытание по истории 2018 год Вариант № 2	УТВЕРЖДАЮ 
--	--	--

1. Расположите в хронологическом порядке основные события «бунташного века». Запишите цифры, которыми обозначены исторические события в правильной последовательности в таблицу.

- А) «Медный бунт»;
- Б) «Соляной бунт»;
- В) восстание под предводительством Степана Разина.

Ответ:

--	--	--

2. Установите соответствие между событиями и датами их проведения: к каждой позиции первого столбца подберите соответствующую позицию из второго столбца. Запишите в таблицу выбранные цифры под соответствующими буквами.

СОБЫТИЯ	ГОДЫ
А) созыв первого Земского собора	1) 1185 г.;
Б) издание манифеста о вольности дворянской;	2) 1549 г.;
В) поход новгород-северского князя Игоря Святославовича против половцев;	3) 1613 г.;
Г) I Съезд народных депутатов СССР;	4) 1762 г.;
	5) 1918 г.;
	6) 1989 г.

Ответ:

А	Б	В	Г

3. Ниже приведён список названий (терминов). Все они, за исключением **двух**, относятся к реформам 60-70-х гг. XIX в. Найдите и запишите порядковые номера названий (терминов), относящихся к другому историческому периоду.

- 1) *отрезки*; 2) *мировой судья*; 3) *присяжный заседатель*; 4) *мировой посредник*; 5) *верховники*;
 6) *отруб*.

Ответ:

--	--

4. Запишите термин, о котором идет речь.

Вид феодальной земельной собственности, принадлежащей владельцу на правах полной наследственной собственности.

Ответ: _____.

5. Установите соответствие между процессами (явлениями, событиями) и фактами, относящимися к этим процессам (явлениям, событиям): к каждой позиции первого столбца подберите соответствующую позицию из второго столбца. Запишите в таблицу выбранные цифры под соответствующими буквами.

ПРОЦЕССЫ (ЯВЛЕНИЯ, СОБЫТИЯ)



- А) Северная война 1700-1721 гг.;
- Б) Семилетняя война 1756-1763 гг.;
- В) русско-турецкая война 1787-1791 гг.;
- Г) Отечественная война 1812 года

ФАКТЫ

- 1) Чесменское сражение;
- 2) взятие крепости Измаил;
- 3) сражение при Цорндорфе;
- 4) Полтавская битва;
- 5) Бородинское сражение;
- 6) Брусиловский прорыв.

Ответ:

А	Б	В	Г

 <p>Минобрнауки России МИРЭА – Российский технологический университет</p>	<p>Вступительное испытание по истории 2018 год</p> <p>Вариант № 2</p>	<p>УТВЕРЖДАЮ</p> 
--	---	--

б. Установите соответствие между фрагментами исторических источников и их краткими характеристиками: к каждому фрагменту, обозначенному буквой, подберите по две соответствующие характеристики, обозначенные цифрами.

ФРАГМЕНТЫ ИСТОЧНИКОВ

А) «Затем мера правительства, возбудившая особенное внимание общества, есть Положение о земских учреждениях, Высочайше утвержденное 1 января сего года. Трудно определить вперед, какое она будет иметь влияние на общественное хозяйство, на народное развитие; но нельзя упустить из виду того впечатления, которое она произвела на образованные классы. Только немногие видели в ней меру чисто экономическую; большинство же объясняло её или как уступку, вызванную современными обстоятельствами, или как первый шаг к представительному правлению. Она возбудила надежды в одних и опасения за будущее в других».

Б) «Ни одно учреждение не вооружало против себя в такой сильной степени общего мнения, как Министерство государственных имуществ. В публике рассуждают, что желание отличиться законотворчеством обнаружилось в этом министерстве в сильной степени и что до сего времени ничего не издано, чтобы сообразно было с положением России и потребностью крестьян. Говорят, что учреждением этого министерства нарушена крепость основания Российской Монархии ко вреду самодержавия, что это государство в государстве с своею законодательною, административною, судебною и исполнительною властью – пример, вредный для крепостных людей, - уважение дворянства к властям и крестьян к помещикам потрясено».

ХАРАКТЕРИСТИКИ

- 1) Учреждение, о котором идет речь в отрывке, было создано в годы правления императора Николая I.
- 2) Автор считает, что меры, предпринимаемые правительством, часть общества рассматривает как шаг к созданию представительного органа власти.
- 3) Деятельность учреждения, упоминаемого в отрывке, по мнению автора, получила единодушную положительную оценку у населения страны.
- 4) Документ был создан после отмены крепостного права.
- 5) Меры правительства, упоминаемые в отрывке, стали следствием Первой российской революции.
- 6) упоминаемое в тексте учреждение возглавлял П.Д. Киселев.

Запишите в таблицу выбранные цифры под соответствующими буквами

Ответ:



Фрагмент А		Фрагмент Б	

7. Что из перечисленных событий относится к XIV в.? Выберите три ответа и запишите в таблицу соответствующие цифры.

- 1) присоединение Новгорода к Московскому государству;
- 2) Куликовская битва;
- 3) денежная реформа Елены Глинской;
- 4) набег хана Тохтамыша на Москву;
- 5) начало правления в Москве Ивана Калиты;
- 6) стояние на реке Угре.

Ответ:

--	--	--

 <p>Минобрнауки России МИРЭА – Российский технологический университет</p>	<p>Вступительное испытание по истории 2018 год</p> <p>Вариант № 2</p>	<p>УТВЕРЖДАЮ</p> 
--	---	--

8. Установите соответствие между именами исторических деятелей и событиями, происшедшими в годы их правления: к каждой позиции первого столбца подберите соответствующую позицию второго столбца.

ИСТОРИЧЕСКИЕ ДЕЯТЕЛИ

- А) Иван III ;
- Б) Иван IV;
- В) Дмитрий Донской;
- Г) Борис Годунов;

СОБЫТИЯ

- 1) восстание по предводительством Степана Разина;
- 2) Ливонская война;
- 3) «стояние» на реке Угре;
- 4) Куликовская битва;
- 5) поход Лжедмитрия I на Москву.

Ответ:

А	Б	В	Г

9. Прочтите отрывок из именного указа от 18 января 1721 г. и напишите, как назывались крестьяне, о которых идет речь.

«...Позволяется сим нашим указом для размножения... заводов, как шляхетству, так и купецким людям, к тем заводам деревни покупать невозбранно с позволения берг- и мануфактур-коллегии, токмо под такую кондицию, дабы те деревни всегда были уже при тех заводах неотлучно». ОТВЕТ: _____.

10. Заполните пустые ячейки таблицы, используя приведённый ниже список пропущенных элементов: для каждого пропуска, обозначенного буквами, выберите номер нужного элемента.

Отец правителя	Правитель	Сын правителя
Святослав	Владимир Святославович	_____ (А)
_____ (Б)	Иван Красный	_____ (В)
_____ (Г)	_____ (Д)	Иван IV Грозный
Михаил Романов	Алексей Михайлович	_____ (Е)

Пропущенные элементы:

- 1) Александр Невский; 2) Иван III Великий; 3) Владимир Мономах; 4) Петр I; 5) Дмитрий Донской;
- 6) Василий III; 7) Борис Годунов; 8) Ярослав Мудрый; 9) Иван I Калита.


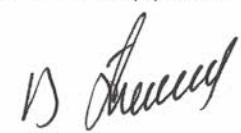
Ответ:

А	Б	В	Г	Д	Е

11. Прочтите отрывок из исторического источника. «Немцы же и чудь пошли за ним. Князь же великий поставил войско на Чудском озере на Узмени, у Вороньего камня, и, приготовившись к бою, пошел против них. Войска сошлись на Чудском озере, было тех и других большое множество. Был же тут с князем и брат его Андрей со множеством воинов отца своего, было у князя множество храбрых, сильных и крепких, все наполнились воинственным духом, и были у них сердца подобны львиным.

И сказали: «Княже, ныне пришло время положить свои головы за тебя». Был же тогда день субботний, и на восходе солнца сошлись оба войска.

И была здесь злая и великая сеча для немцев и чуди, и слышен был треск ломающихся копий и звук от ударов мечей, так что и лед на замерзшем озере подломился, и не видно было льда, потому что он покрылся кровью. И сам я слышал об этом от очевидца, бывшего там. И обратились немцы в бегство, и гнали их русские с боем, как по воздуху, и некуда им было убежать, били их 7 верст по льду до Суболицкого берега, и пало немцев 500, а чуди бесчисленное множество, а в плен взяли 50 лучших немецких воевод и привели их в Новгород, а другие немцы утонули в озере, потому что была весна. А другие убежали тяжело ранеными. Был же этот бой 5 апреля.

 Минобрнауки России МИРЭА – Российский технологический университет	Вступительное испытание по истории 2018 год Вариант № 2	УТВЕРЖДАЮ 
---	--	--

Используя отрывок и знания по истории, выберите в приведенном списке три верных суждения.

- 1) Битва, которая описывается в отрывке, произошла в XIV в.
- 2) Русским войском в описываемой битве командовал князь Дмитрий.
- 3) Следствием битвы, описываемой в отрывке, стало ослабление наступления крестоносцев на северо-западные русские земли.
- 4) За победу в этом сражении князь, командовавший русским войском, получил прозвище Невский.
- 5) Князь, командовавший русским войском в этой битве, стремился избегать военного столкновения с Золотой Ордой.
- 6) Один из сыновей князя, командовавшего русским войском в этой битве, стал основателем династии московских князей.

Ответ:

--	--	--

12. Укажите, кто из деятелей русской науки и культуры первой половины XIX века создал:

А) Ансамбль Смольного монастыря в Санкт-Петербурге;	1) А.А. Иванов;
Б) Казанский собор в Петербурге;	2) И.П. Мартос;
В) картину «Явление Христа народу»;	3) А.Н. Воронихин;
Г) памятник К. Минину и Д. Пожарскому на Красной площади в Москве;	4) Ф.Б. Растрелли
	5) К.И. Росси

Ответ:

А	Б	В	Г

13. В исторической науке существуют дискуссионные проблемы, по которым высказываются различные, часто противоречивые точки зрения. Ниже приведена одна из спорных точек зрения, существующих в исторической науке.

«Ордынское владычество способствовало формированию российского государства».

Используя исторические знания, приведите два аргумента, которыми можно подтвердить данную точку зрения, и два аргумента, которыми можно опровергнуть её.

Ответ запишите в следующем виде.

Аргументы в подтверждение:

- 1) ...
- 2) ...

Аргументы в опровержение:

- 1) ...
- 2) ...

14. Прочтите отрывок из сочинения историка и назовите имя церковного деятеля, о котором идет речь.

«В 1655 г. в неделю православия патриарх совершил в Успенском соборе торжественное богослужение в присутствии двух восточных патриархов, антиохийского и сербского, случившихся тогда в Москве. После литургии он, прочитав беседу о поклонении иконам, произнес сильную речь против новой русской иконописи и предал церковному отлучению всех, кто впредь будет писать или держать у себя новые иконы. При этом ему подносили отобранные иконы, и он, показывая каждую народу, бросал ее на железный пол с такою силою, что икона разбивалась. Наконец, он приказал сжечь неисправные иконы».

Ответ: _____

Председатель экзаменационной комиссии по истории



Г.В. Епонешникова