
 Минобрнауки России МИРЭА – Российский технологический университет	Вступительное испытание по истории 2018 год Вариант № 3	УТВЕРЖДАЮ 
---	--	--

1. Расположите в хронологической последовательности следующие события. Запишите цифры в таблицу.

- А) воцарения Романовых;
- Б) начало церковного раскола;
- В) созыв первого Земского собора.

Ответ:

--	--	--

2. Установите соответствие между событиями и датами их проведения: к каждой позиции первого столбца подберите соответствующую позицию из второго столбца. Запишите в таблицу выбранные цифры под соответствующими буквами.

СОБЫТИЯ	ДАТЫ
А) введение Табели о рангах;	1) 1700 г.
Б) издание Жалованной грамоты городам;	2) 1703 г.;
В) основание Санкт-Петербурга;	3) 1722 г.;
Г) созыв Уложенной комиссии;	4) 1736 г.
	5) 1767 г.;
	6) 1785 г.;

Ответ:

А	Б	В	Г

3. Ниже приведён список названий (терминов). Все они, за исключением двух, относятся к событиям XIX в. Найдите и запишите порядковые номера названий (терминов), относящихся к другому историческому периоду.

- 1) славянофилы; 2) мировые посредники; 3) стахановцы; 4) меньшевики; 5) земские начальники; 6) землеvolьцы.

Ответ:

--	--

4. Запишите термин, о котором идет речь.

Неофициальное правительство Русского государства в конце 1540-1550 гг. Обсуждало планы государственных реформ, внешней политики, назначало военачальников.

Ответ: _____.

5. Установите соответствие между процессами (явлениями, событиями) и фактами, относящимися к этим процессам (явлениям, событиям): к каждой позиции первого столбца подберите соответствующую позицию из второго столбца. Запишите в таблицу выбранные цифры под соответствующими буквами.

ПРОЦЕССЫ (ЯВЛЕНИЯ, СОБЫТИЯ)



- А) декабристское движение;
- Б) проведение политики «военного коммунизма»;
- В) старообрядческий раскол в Русской церкви;
- Г) объединение русских земель вокруг Москвы

ФАКТЫ

- 1) выход статьи «Головокружение от успехов»;
- 2) выступление Черниговского полка;
- 3) создание организации «Земля и воля»;
- 4) сражение на р. Шелони;
- 5) Соловецкое восстание;
- 6) принятие Декрета о введении продразверстки на хлеб.

Ответ:

А	Б	В	Г

 <p>Минобрнауки России МИРЭА – Российский технологический университет</p>	<p>Вступительное испытание по истории 2018 год</p> <p>Вариант № 3</p>	<p>УТВЕРЖДАЮ</p> 
--	---	--

6. Установите соответствие между фрагментами исторических источников и их краткими характеристиками: к каждому фрагменту, обозначенному буквой, подберите по две соответствующие характеристики, обозначенные цифрами.

ФРАГМЕНТЫ ИСТОЧНИКОВ

А) «Вашему императорскому величеству всеподданнейше доношу: сильными действиями соединенных эскадр, атакующих крепости Корфу, принудили мы напоследок к скорой решительности, предпринял я общо с командующим турецкой эскадрой Кадыр-Беем атаковать оные всеми силами с моря и сухого пути решительно. Неприятель разбит и побежден. Из бывших в сие время на острове до осьмисот французов со всем их подкреплением из крепости едва успели немногие только на гребных судах возвратиться в крепости, прочие побиты и потоплены. В план взят генерал Пиврон, комендант острова, многие офицеры и солдат до двухсот, об убитых и потопленных обстоятельно ещё неизвестно».

Б) «Истребление турецкого флота в Синопе эскадрой, состоящею под начальством моим, не может не оставить славной страницы в истории Черноморского флота. Изъявляю душевную мою признательность командирам кораблей и фрегатов за хладнокровное и точное постановление своих судов по данной диспозиции во время сильного неприятельского огня, ровно и за непоколебимую их храбрость в продолжении самого дела, обращаюсь с признательностью к офицерам за неустрашимое и точное исполнение их своего долга, благодарю команды, которые дрались как львы. Затем мне не остается ничего, как исполнить свой приятный долг донести государю императору как об общем деле, так и о действии каждого в частности и ходатайствовать о наградах».

ХАРАКТЕРИСТИКИ

- 1) В отрывке описаны события, в ходе которых турецкий флот выступил союзником флота российского.
- 2) Документ написан во второй половине XIX в.
- 3) Автор обращается к императору Петру Первому.
- 4) Описываемые в отрывке события произошли в Средиземном море.
- 5) Автором документа является П.С. Нахимов.
- 6) Описываемые в отрывке события произошли в Балтийском море.

Запишите в таблицу выбранные цифры под соответствующими буквами

Ответ:

Фрагмент А		Фрагмент Б	

7. Какие три из перечисленных ниже событий связаны с царствованием Ивана Грозного? Запишите в таблицу соответствующие цифры.



- 1) сражение на реке Шелони;
- 2) Ливонская война;
- 3) Присоединение Тверского княжества к Москве;
- 4) создание приказов;
- 5) присоединение Астраханского ханства к России;
- 6) «Соловецкое сидение».

Ответ:

--	--	--

8. Установите соответствие между именами современников: к каждой позиции первого столбца подберите соответствующую позицию второго столбца.

ИМЕНА	ИМЕНА
А) Иван IV;	1) Александр Пересвет;
Б) Дмитрий Донской;	2) митрополит Петр;

 Минобрнауки России МИРЭА – Российский технологический университет	Вступительное испытание по истории 2018 год Вариант № 3	УТВЕРЖДАЮ 
--	--	--

В) Иван Калита;	3) Андрей Курбский;
Г) Алексей Михайлович;	4) Богдан Хмельницкий;
	5) Александр Невский

Ответ:

А	Б	В	Г

9. Прочтите отрывок из сочинения историка и назовите императора, правившего в XIX в., о реформах которого идет речь.

«Положение <императора> было трудное. Крепостники неохотно уступали свои позиции. ...Реформа была урезана..., «выкупные платежи» и недостаточные земельные наделы связали по рукам и ногам крестьянина... Неизбежным следствием крестьянской эмансипации были другие реформы: земская, городская, судебная и, наконец, реформа армии – введение всеобщей воинской повинности».

Ответ: _____.

10. Заполните пустые ячейки таблицы, используя представленные в приведённом ниже списке данные. Для каждой ячейки, обозначенной буквами, выберите номер нужного элемента.

АРХИТЕКТОРЫ	ПАМЯТНИКИ АРХИТЕКТУРЫ	МЕСТО ПОСТРОЙКИ
_____ (А)	Архангельский собор	_____ (Б)
_____ (В)	_____ (Г)	Петербург
И. Браунштейн, Н. Микетти	_____ (Д)	Петергоф
О. Монферран	Исаакиевский собор	_____ (Е)

Пропущенные элементы:



1) Ораниенбаум; 2) Алевиз Новый; 3) Д. Трезини; 4) Москва; 5) «Монплеизр»; 6) Здание Двенадцати коллегий; 7) Петербург; 8) Аристотель Фиорванти; 9) Дом Пашкова.

Ответ:

А	Б	В	Г	Д	Е

11. Прочтите отрывок из исторического источника.

«Пехоты, получающей постоянное жалование, царь содержит до 12 тысяч человек. Из них 5000 должны находиться в Москве или в ином месте, где бы ни имел пребывание царь, и 2000 при самой его особе... Прочие размещены в укрепленных городах, где остаются до тех пор, пока не понадобится отправить их в поход. Каждый из них получает жалования по семи рублей в год, сверх двенадцати мер ржи и столько же овса... Воины, составляющие пехоту, не носят никакого оружия, кроме самопала в руке, бердыша на спине и меча с боку. Ствол их самопала гладкий и прямой; отделка ложа очень груба и неискусна, и самопал весьма тяжёл, хотя стреляют из него очень небольшою пулею... В Сибири... построено несколько крепостей и поставлены гарнизоны около шести тысяч солдат, из русских и поляков, которые царь усиливает, отправляя туда новые партии для населения, по мере распространения владений... Постоянных телохранителей царя составляют 2000 человек, стоящие день и ночь с заряженными ружьями, зажжёнными фитилями и другими нужными снарядами. Они не входят во дворец и сторожат во дворе, где живёт царь... Они... сторожат дворец царский или опочивальню по двести пятидесяти человек в ночь, другие двести пятьдесят человек караулят на дворе и около казначейства...»

 <p>Минобрнауки России МИРЭА – Российский технологический университет</p>	<p>Вступительное испытание по истории 2018 год</p> <p>Вариант № 3</p>	<p>УТВЕРЖДАЮ</p> 
---	---	--

Используя отрывок и знания по истории, выберите в приведенном списке три верных суждения.

- 1) Описываемое в отрывке войско было создано в годы правления Ивана III.
- 2) Описываемое в отрывке войско сыграло большую роль в расширении границ Российского государства во второй половине XVI в.
- 3) Войско, которое описывает автор, имело огнестрельное оружие.
- 4) Войско, которое описывается в отрывке, получало жалованье в натуральной и денежной форме.
- 5) Описываемое в отрывке войско было расформировано в начале XVII в.
- 6) Описываемое войско формировалось на основе рекрутского набора.

Ответ:

--	--	--

12. Установите соответствие между названиями литературных произведений и временем их создания.

ПРОИЗВЕДЕНИЯ	ВРЕМЯ СОЗДАНИЯ
А) «Путешествие из Петербурга в Москву»;	1) XII в.;
Б) «Слово о полку Игореве»;	2) XVIII в.
В) «Житие протопопа Аввакума, им самим написанное»	3) XV в.
Г) «Задонщина»;	4) XVII в.
	5) XVI в.

Ответ:

А	Б	В	Г

13. В исторической науке существуют дискуссионные проблемы, по которым высказываются различные, часто противоречивые точки зрения. Ниже приведена одна из спорных точек зрения, существующих в исторической науке.

«Складывавшаяся в России после Октябрьского переворота государственная власть унаследовала многие черты от российского самодержавного строя».

Используя исторические знания, приведите два аргумента, которыми можно подтвердить данную точку зрения, и два аргумента, которыми можно опровергнуть её.

Ответ запишите в следующем виде.

Аргументы в подтверждение:

- 1) ...
- 2) ...

Аргументы в опровержение:

- 1) ...
- 2) ...

14. Прочтите отрывок из документа и напишите порядковый номер Всероссийского съезда Советов, на котором он был принят (например: пятый).

«Временное правительство низложено. Большинство членов Временного правительства уже арестовано... Съезд постановляет: вся власть на местах переходит Советам рабочих, солдатских и крестьянских депутатов, которые и должны обеспечить подлинный революционный порядок». Ответ: _____.

Председатель экзаменационной комиссии по истории



Г.В. Епонешникова