
 Минобрнауки России МИРЭА – Российский технологический университет	Вступительное испытание по обществознанию 2018 год Вариант № 2	УТВЕРЖДАЮ 
--------------------------------------------------------------------------------------------------------------------------------------------------------------	-------------------------------------------------------------------------	--------------------------------------------------------------------------------------------------

1. Запишите слово, пропущенное в таблице.



Ответ: _____.

2. Найдите понятие, которое является обобщающим для всех остальных понятий представленного ниже ряда:

- 1) организация наблюдений; 2) проведение эксперимента; 3) применение методов; 4) построение теорий; 5) выдвижение гипотез.

Ответ:

3. Ниже приведён перечень терминов. Все они, за исключением двух, связаны с понятием «прогресс». Найдите два термина, «выпадающие» из общего ряда, и запишите в таблицу цифры, под которыми они указаны.

- 1) Социальная реформа; 2) модернизация; 3) стагнация; 4) рост продолжительности жизни; 5) падение уровня образования; 6) рост уровня благосостояния населения.

Ответ:

--	--

4. Найдите в приведенном списке имущество, являющееся в соответствии с Семейным кодексом индивидуальной собственностью супругов.

- 1) недвижимое имущество, приобретенное в период брака по договору купли-продажи;
- 2) имущество, принадлежащее каждому из супругов до вступления в брак;
- 3) имущество, полученное одним из супругов во время брака в дар, в порядке наследования или по иным безвозмездным сделкам;
- 4) драгоценности и предметы роскоши;
- 5) вещи индивидуального пользования (обувь, одежда, косметика).

Ответ: _____.

5. Установите соответствие:


ПРАВООТНОШЕНИЯ	ОТРАСЛИ ПРАВА
А) заключена сделка;	1) Гражданское право;
Б) приняты поправки в федеральный закон;	2) Государственное право;
В) подписан коллективный договор;	3) Трудовое право;
Г) гражданин вступил в права наследства;	
Д) президент подписал указ о помиловании.	

Ответ:

А	Б	В	Г	Д

6. Найдите в приведенном списке примеры непосредственного влияния экономики на социальную сферу общественной жизни:

- 1) принятие государственных образовательных стандартов;
- 2) задержка зарплаты в связи с банкротством предприятия;
- 3) введение цензуры на государственном телевидении;
- 4) государственная гарантия банковских вкладов;
- 5) строительство заводом жилья для рабочих;
- 6) создание новых рабочих мест.

 <p>Минобрнауки России МИРЭА – Российский технологический университет</p>	<p>Вступительное испытание по обществознанию 2018 год</p> <p>Вариант № 2</p>	<p>УТВЕРЖДАЮ</p> <p><i>13 [Signature]</i></p>
--------------------------------------------------------------------------------------------------------------------------------------------------------------------	--------------------------------------------------------------------------------------	-----------------------------------------------

Ответ: _____.

7. Выберите верные суждения о международной торговле и запишите цифры, под которыми они указаны.

- 1) Отказ от международной торговли обязательно приводит к повышению качества производимых товаров и услуг, а также росту их конкурентоспособности.
- 2) Внешнеторговая политика, ориентированная на свободный обмен товарами, называется протекционизмом.
- 3) Тарифные и нетарифные барьеры нацелены на стимулирование роста ВВП и защиту отечественных производителей от конкуренции.
- 4) К нетарифным барьерам относится введение квот на импорт товаров.
- 5) Импортные пошлины направлены на повышение предложения товаров, производимых за рубежом.

Ответ: _____.

8. Установите соответствие:

Статусные характеристики	Виды статусов
А) мужчина;	1) прирожденный статус;
Б) высшее образование;	2) приобретенный статус;
В) 25 лет;	
Г) инженер;	
Д) женат.	

Ответ:

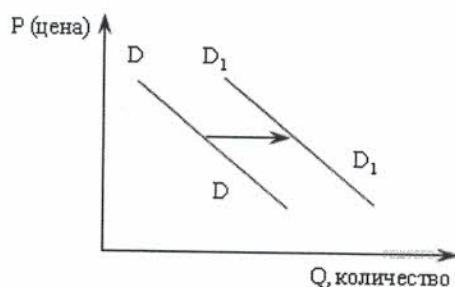
А	Б	В	Г	Д

9. В стране Z функционирует смешанная экономика. Найдите в приведенном списке экономические функции, которые выполняет государство Z, и запишите цифры, под которыми они указаны.



- 1) директивное планирование;
- 2) регулирование денежного обращения;
- 3) производство общественных благ;
- 4) установление цен на товары и услуги;
- 5) правовая защита конкуренции;
- 6) распределение ресурсов между производителями.

Ответ: _____.

10. На графике отражена ситуация на рынке автомобилей: линия спроса **D** переместилась в новое положение **D1** (**P** – цена товара, **Q** – количество товара). Какие из перечисленных факторов могут вызвать такое изменение?



- 1) Рост доходов населения;
- 2) введение единого налога для производителей;

 <p>Минобрнауки России МИРЭА – Российский технологический университет</p>	<p>Вступительное испытание по обществознанию 2018 год</p> <p>Вариант № 2</p>	<p>УТВЕРЖДАЮ</p> 
--------------------------------------------------------------------------------------------------------------------------------------------------------------------	--------------------------------------------------------------------------------------	------------------------------------------------------------------------------------------------------

- 3) снижение цен на проезд в автобусах и троллейбусах;
- 4) увеличение числа владельцев дачных участков;
- 5) увеличение объема услуг владельцев дачных участков

Ответ: _____.

11. Выберите верные суждения о политической системе и запишите цифры, под которыми они указаны.

- 1) Основным институтом политической системы являются политические партии.
- 2) Открытость политической системы проявляется в её взаимодействии с другими сферами жизни общества.
- 3) Проявлением охранительной функции политической системы является распределение дефицитных благ и ресурсов общества.
- 4) К нормам политического взаимодействия относятся моральные нормы, а также обычаи и традиции.
- 5) Одним из компонентов политической системы являются группы давления.

Ответ: _____.

12. Какие субъекты политической деятельности осуществляют государственную власть на территории Российской Федерации?

- 1) Федеральное Собрание РФ;
- 2) Администрация Президента РФ;
- 3) органы местного самоуправления;
- 4) суды Российской Федерации;
- 5) победившие на выборах политические партии;
- 6) Правительство РФ.

Ответ: _____.

13. Татьяна и Леонид познакомились во время вступительных испытаний в университет и решили заключить брак сразу после поступления. Однако у них возникли сомнения, может ли быть данный брак зарегистрирован. Какие могут быть препятствия для регистрации брака в общем порядке?

- 1) Брачующиеся не достигли возраста 18 лет.
- 2) У будущих супругов отсутствуют источники доходов.
- 3) Один из брачующихся не является гражданином России.
- 4) Брачующиеся состоят в близком родстве.
- 5) Медосмотр, который прошли будущие супруги, выявил у одного из них наследственное заболевание.
- 6) Один из будущих супругов вступает в брак по принуждению родственников.

Ответ: _____.



14. 15-летняя Марина Иванова после окончания девяти классов решила устроиться на работу, продолжая обучение в 10 классе школы. Начальник почтового отделения, куда она обратилась с просьбой о трудоустройстве, отказал ей в приеме на работу, т.к. Марина не достигла возраста 16 лет, с которого допускается прием на работу.

Прав ли начальник почтового отделения, отказав Марине в приеме на работу? Обоснуйте свой ответ. Назовите две особенности устройства на работу несовершеннолетних.

15. Что такое гражданское общество? Назовите три основных принципа гражданского общества.

16. Прочтите приведенный ниже текст, вставьте пропущенные слова. Выберите из предлагаемого списка слова, которые необходимо вставить на место пропусков

«Человек живет в _____ (А), и его поступки обусловлены становлением, развитием в человеческом коллективе. Нельзя жить среди людей, не вступая в определенные _____ (Б) с окружающими. В условиях современной России и складывающихся в ней новых общественных отношений, рыночной _____ (В) и конкурентной борьбы значительно возрастает роль осмысленной ориентировки человека в окружающей среде. Без понимания творящегося вокруг невозможно правильно ориентироваться в жизни, наладить нормальные взаимоотношения с другими людьми и общественными _____ (Г). И в этом неоценимую помощь оказывает социальная

 <p>Минобрнауки России МИРЭА – Российский технологический университет</p>	<p>Вступительное испытание по обществознанию 2018 год</p> <p>Вариант № 2</p>	<p>УТВЕРЖДАЮ</p> 
--------------------------------------------------------------------------------------------------------------------------------------------------------------------	--------------------------------------------------------------------------------------	------------------------------------------------------------------------------------------------------

психология. Социальная психология изучает _____ (Д) психологических явлений, возникающих при социальном взаимодействии людей. Роль _____ (Е), которыми располагает социальная психология, сейчас значительно возросла».

Список терминов:

- | | | |
|--------------|---------------|--------------------|
| 1) Знание; | 4) позиция; | 7) закономерность; |
| 2) Общество; | 5) отношение; | 8) поведение; |
| 3) Группа; | 6) норма; | 9) экономика. |

Ответ:

А	Б	В	Г	Д	Е

Прочтите текст и выполните задания 17-20.

Такие станки, паровые машины, железные дороги стали движущей силой промышленной революции XVIII-XIX вв. Эта революция изменила облик государства, породила мегаполисы, создала средний класс и заложила экономический фундамент для роста качества жизни. В середине прошлого века началась новая технологическая революция. Человечество вступило в цифровой век. Эту революцию ещё называют информационной.

Революция высоких технологий погрузила нас в состояние непрерывного рассеянного внимания, когда вы следите за всем сразу, но ни на чем не сосредотачиваетесь. Непрерывное рассеянное внимание отличается от многозадачности, когда у каждого знания есть ясная цель, и мы пытаемся улучшить собственную эффективность. Тут напротив, ни одна мысль не занимает наше сознание целиком. Все происходит в области периферийного внимания. Мозг в режиме непрерывного рассеянного внимания испытывает постоянный стресс. Больше нет времени поразмышлять, оглядеться по сторонам и принять взвешенное решение.

Термин «многозадачность» первое время применяли только к компьютерам: так называли заложенную в них возможность обрабатывать несколько заданий одновременно. Теперь мы свободно пользуемся этим словом в разговорах о людях, которые берутся одновременно за несколько дел, хотя привычнее, конечно, так: закончил одно – переходи к следующему.

Многозадачность позволяет подросткам – «цифровым от рождения» - откладывать на потом долгосрочные задачи. Если несколько задач одновременно борются за внимание одного человека, тот воспринимает новое задание поверхностно, вместо того, чтобы сосредоточиться на нем. Иногда многозадачность смертельно опасна.

Подростки – основная аудитория компьютерных игр. Их влияние на умственное развитие оценивается по-разному. Дилемму можно выразить так: правда ли, что выросло поколение молодых людей, не способных учиться, запоминать, чувствовать и управлять? Или, наоборот, «цифровые от рождения» развили в себе новые прогрессивные навыки, которые сулят им невероятные успехи в будущем?

(Г. Ворган).

17. Чем многозадачность отличается от непрерывного рассеянного внимания? К каким негативным последствиям ведет рассеянное внимание?

18. Какие два вида революций упоминаются в тексте? Используя текст и обществоведческие знания, укажите любой признак революции, начавшей в середине прошлого века.

19. Каковы негативные последствия многозадачности? Приведите два примера, иллюстрирующие эти последствия.

20. Автор приводит две точки зрения по вопросу о влиянии компьютерных игр на умственное развитие подростков. Используя обществоведческие знания, материалы средств массовой информации, опираясь на личный опыт, приведите три аргумента в поддержку или опровержение любой из этих позиций.

Председатель экзаменационной комиссии по обществознанию



С.В. Горкуш