


 Минобрнауки России МИРЭА – Российский технологический университет	Вступительное испытание по истории 2019 год Вариант № 6	У Т В Е Р Ж Д А Ю 
---	--	--

1. Расположите следующие термины в хронологическом порядке их появления в отечественной культуре.

- А) кунсткамера;
- Б) парсуна;
- В) фреска.

Ответ:

--	--	--

2. Установите соответствие между изречениями и датами, к которым они относятся. Запишите в таблицу выбранные цифры под соответствующими буквами.

ИЗРЕЧЕНИЯ	ДАТЫ
А) «За убийство княжеского тиуна штраф в 80 гривен. За убийство смерда или холопа штраф в 5 гривен».	1) 1097 г.;
Б) «Зачем мы губим Русскую землю, сами поднимая взаимную вражду, а в это время половцы радуются».	2) 1072 г.
В) «Разодрася вся Русская земля».	3) 1132 г.;
Г) «И слышен был треск от ломающихся копий и звук от ударов мечей, так что и лед на замерзшем озере подломился»	4) 1237 г.
	5) 1240 г.
	6) 1242 г.;

Ответ:

А	Б	В	Г

3. Ниже приведён список названий (терминов). Все они, за исключением двух, относятся к событиям и явлениям второй половины XIX – начала XX в. Найдите и запишите порядковые номера названий (терминов), относящихся к другому историческому периоду.

- 1) *отрезки*;
- 2) *мировой посредник*;
- 3) *приказной дьяк*;
- 4) *суд присяжных*;
- 5) *стахановское движение*;
- 6) *земство*.

Ответ:

--	--

4. Запишите термин, о котором идет речь.

Политическая ситуация, сложившаяся в России в 1917 г., характеризующаяся одновременным существованием власти Временного правительства и Советов рабочих, солдатских и крестьянских депутатов.

Ответ: _____

5. Установите соответствие между процессами (явлениями, событиями) и фактами, относящимися к этим процессам (явлениям, событиям): к каждой позиции первого столбца подберите соответствующую позицию из второго столбца. Запишите в таблицу выбранные цифры под соответствующими буквами.

 Минобрнауки России МИРЭА – Российский технологический университет	Вступительное испытание по истории 2019 год Вариант № 6	УТВЕРЖДАЮ 
---	--	--

ПРОЦЕССЫ (ЯВЛЕНИЯ, СОБЫТИЯ)

- А) Северная война 1700-1721 гг.;
- Б) Семилетняя война 1756-1763 гг.;
- В) русско-турецкая война 1787-1791 гг.;
- Г) Отечественная война 1812 года

ФАКТЫ

- 1) Чесменское сражение;
- 2) взятие крепости Измаил;
- 3) сражение при Цорндорфе;
- 4) Полтавская битва;
- 5) Бородинское сражение.
- 6) Брусиловский прорыв.

Ответ:

А	Б	В	Г

6. Установите соответствие между фрагментами исторических источников и их краткими характеристиками: к каждому фрагменту, обозначенному буквой, подберите по две соответствующие характеристики, обозначенные цифрами.

ФРАГМЕНТЫ ИСТОЧНИКОВ

А) «Во время болезни блаженной памяти государыни императрицы Елизаветы Петровны слышала я из уст Никиты Ивановича Панина, что трое Шуваловых: Петр Иванович, Александр Иванович, Иван Иванович – чрезвычайно робеют о приближающейся кончине государыни императрицы и о будущем жребии их, что от сей робости их родятся у многих окружающих их разнообразные проекты, что наследника её все боятся, что не любим и не почитаем никем, что сама государыня сетует, кому поручить престол, что склонность в ней находят отрешить наследника, неспособного, от которого много имела сама досады, и взять сына его семилетнего, и мне поручить управление, но что сие последнее касательно моего управления – не по вкусу Шуваловым. Из сих проектов родилось, что посредством Мельгунова Шуваловы помирились с Петром III, и государыня скончалась без иных распоряжений».

Б) «„Понеже по воле всемогущего Бога и по общему желанию российского народа мы по преставлении всепресветлейшего державнейшего Великого государя Петра Второго, императора и самодержца всероссийского, нашего любезнейшего государя племянника, императорский всероссийский престол восприняли и, следуя божественному закону, правительство свое таким образом вести намерена и желаю, дабы оное в начале к прославлению Божественного имени и к благополучию всего нашего государства и всех верных подданных служить могло. Того ради, через сие накрепчайше обещаемся, что и наиглавнейшее мое попечение и старание будет не только о содержании, но и крайнем и всевозможном распространении православные наши веры греческого исповеданию, также по принятию короны российской, в супружество во всю мою жизнь не вступать и наследника ни при себе, ни по себе никого не определять. Ещё обещаемся, что понеже целость и благополучие всякого государства от благих советов состоит, того ради мы ныне уже учрежденный Верховный тайный совет в восьми персонах всегда держать и без оного Верховного тайного совета согласия:

1) Ни с кем войны не вчинять...»

 Минобрнауки России МИРЭА – Российский технологический университет	Вступительное испытание по истории 2019 год Вариант № 6	УТВЕРЖДАЮ 
---	--	--

ХАРАКТЕРИСТИКИ

- 1) Автор данного отрывка – Екатерина II.
 - 2) Император, упомянутый в тексте, издал манифест о вольности дворянства.
 - 3) Император, упомянутый в тексте, издал указ о «вольных хлебопашцах».
 - 4) Данный текст написан от имени Екатерины I.
 - 5) По распоряжению императора, упомянутого в тексте, был отправлен в ссылку А.Д. Меньшиков.
 - 6) Данный текст написан от имени Анны Иоанновны.
- Запишите в таблицу выбранные цифры под соответствующими буквами

Ответ:

Фрагмент А		Фрагмент Б	

7. Какие три из перечисленных ниже событий связаны с царствованием Ивана Грозного? Запишите в таблицу соответствующие цифры.

- 1) сражение на реке Шелони;
- 2) Ливонская война;
- 3) Присоединение Тверского княжества к Москве;
- 4) создание приказов;
- 5) присоединение Астраханского ханства к России;
- 6) «Соловецкое сидение».

Ответ:

--	--	--

8. Установите соответствие между государственными деятелями и историческими событиями: к каждой позиции первого столбца подберите соответствующую позицию из второго столбца.

ГОСУДАРСТВЕННЫЕ ДЕЯТЕЛИ	ИСТОРИЧЕСКИЕ СОБЫТИЯ
А) П.А. Столыпин	1) создание военных поселений
Б) А.А. Аракчеев	2) введение «золотого стандарта»
В) А.Х. Бенкендорф	3) разрешение свободного выхода крестьян из общины
Г) С.Ю. Витте	4) создание корпуса жандармов
	5) роспуск Учредительного собрания

Ответ:

А	Б	В	Г

9. Прочтите отрывок из «Записок» А.П. Ермолова и напишите название войны, о событиях которой идет речь.

«...Легко понимали все, что присланный от Наполеона генерал Лористон, пред войною бывший послом при нашем дворе, конечно имел поручение объяснить желание прекратить войну. Москва, древняя столица, собственными руками превращенная в пепел, доказывала, что нет тяжелых жертвований для русского народа... Генерал Лористон приехал чрез несколько дней после прибытия армии в Тарутино. В самое это время... я находился в квартире Кутузова».

Ответ: _____.

 Минобрнауки России МИРЭА – Российский технологический университет	Вступительное испытание по истории 2019 год Вариант № 6	У Т В Е Р Ж Д А Ю 
---	--	--

10. Заполните пустые ячейки таблицы, используя представленные в приведённом ниже списке данные. Для каждой ячейки, обозначенной буквами, выберите номер нужного элемента.

ПРАВИТЕЛЬ	ГОД	МИРНЫЙ ДОГОВОР
_____ (А)	1617	Столбовский договор
Петр I	_____ (Б)	_____ (В)
_____ (Г)	1774 г.	_____ (Д)
Александр I	_____ (Е)	Тильзитский договор

Пропущенные элементы:

- 1) Ништадский мирный договор; 2) 1681 г.; 3) Михаил Романов;
 4) 1721 г.; 5) 1807 г.; 6) Брестский мирный договор;
 7) Екатерина II; 8) Кючук-Кайнарджийский договор; 9) Александр II.

Ответ:

А	Б	В	Г	Д	Е

11. Прочтите отрывок из заявления политического деятеля.

«Секретариат, Политбюро ЦК КПСС не выступили против государственного переворота. Центральный Комитет не сумел занять решительную позицию осуждения и противодействия, не поднял коммунистов на борьбу против попрания конституционной законности. Среди заговорщиков оказались члены партийного руководства, ряд партийных комитетов и средств массовой информации поддержал действия государственных преступников. Это поставило коммунистов в ложное положение. Многие члены партии отказались сотрудничать с заговорщиками, осудили переворот и включились в борьбу против него. Никто не имеет морального права огульно обвинять всех коммунистов, и я как Президент считаю себя обязанным защитить их как граждан от необоснованных обвинений.

В этой обстановке ЦК КПСС должен принять трудное, но честное решение о самороспуске. Судьбу республиканских компартий и местных партийных организаций определяют они сами.

Не считаю для себя возможным дальнейшее выполнение функций Генерального секретаря ЦК КПСС и слагаю соответствующие полномочия».

 Минобрнауки России МИРЭА – Российский технологический университет	Вступительное испытание по истории 2019 год Вариант № 6	УТВЕРЖДАЮ 
---	--	--

Используя отрывок и знания по истории, выберите в приведённом списке три верных суждения.

- 1) Автор заявления занимал одновременно с постом Генерального секретаря важный государственный пост.
- 2) Одним из тех, кого автор заявления называет заговорщиками, был Г. И. Янаев.
- 3) Заговорщики, о которых идёт речь в данном отрывке, были в сговоре с Президентом РФ.
- 4) Автор заявляет, что все члены партии поддержали заговорщиков.
- 5) Заявление сделано в 1993 г.
- 6) В течение того же года, когда было сделано данное заявление, деятельность названной в отрывке партии была прекращена на территории России.

Ответ:

--	--	--

12. Установите соответствие между фамилиями скульпторов и названиями их произведений.

ФАМИЛИИ СКУЛЬПТОРОВ	ПРОИЗВЕДЕНИЯ
А) М.О. Микешин	1) памятник гражданину Минину и князю Пожарскому в Москве
Б) И.П. Мартос	2) памятник «1000-летие России» в Новгороде
В) М.М. Антокольский	3) конные группы на Анничковом мосту в Санкт-Петербурге
Г) П.К. Клодт	4) памятник М.И. Кутузову в Санкт-Петербурге;
	5) скульптурные портреты «Иван Грозный», «Нестор-летописец»;

Ответ:

А	Б	В	Г

13. В исторической науке существуют дискуссионные проблемы, по которым высказываются различные, часто противоречивые точки зрения. Ниже приведена одна из спорных точек зрения, существующих в исторической науке.

«Выступление Н.С. Хрущева на XX съезде КПСС с докладом «О культе личности и его последствиях» сыграло положительную роль в дальнейшем развитии страны».

Используя исторические знания, приведите два аргумента, которыми можно подтвердить данную точку зрения, и два аргумента, которыми можно опровергнуть её.



Ответ запишите в следующем виде.

Аргументы в подтверждение:

- 1) ...
- 2) ...

Аргументы в опровержение:

- 1) ...
- 2) ...

 Минобрнауки России МИРЭА – Российский технологический университет	Вступительное испытание по истории 2019 год Вариант № 6	УТВЕРЖДАЮ 
---	--	--

14. Прочтите отрывок из сочинения историка и назовите имя церковного деятеля, о котором идет речь.

«В 1655 г. в неделю православия патриарх совершил в Успенском соборе торжественное богослужение в присутствии двух восточных патриархов, антиохийского и сербского, случившихся тогда в Москве. После литургии он, прочитав беседу о поклонении иконам, произнес сильную речь против новой русской иконописи и предал церковному отлучению всех, кто впредь будет писать или держать у себя новые иконы. При этом ему подносили отобранные иконы, и он, показывая каждую народу, бросал ее на железный пол с такою силою, что икона разбивалась. Наконец, он приказал сжечь неисправные иконы».

Ответ: _____

Председатель экзаменационной комиссии по истории



С.В. Горкуш