

 Минобрнауки России МИРЭА – Российский технологический университет	Вступительное испытание по обществознанию 2019 год  Вариант № 1	УТВЕРЖДАЮ  
---	---	--

1. Запишите пропущенное слово. **Виды социальной мобильности**

Наименование вида	Его сущность
Внутрипоколенная	Изменение статуса в рамках одного поколения
???	Географическое перемещение между районами, городами и т.д. или смена позиций на одном социально-экономическом уровне, т.е. без изменения статуса («профессиональный карьеризм»)

Ответ: \_\_\_\_\_.

2. Запишите слово, пропущенное в схеме:



Ответ: \_\_\_\_\_.

3. Ниже приведен ряд терминов. Все они, за исключением одного, относятся к понятию «политическая элита». Найдите термин, «выпадающий» из этого ряда.

- 1) директивное управление;      2) привилегированная группа;      3) участие во власти;  
 4) престижность;                      5) высокий статус.

Ответ: \_\_\_\_\_.

4. Выберите верные суждения о научном познании. Выберите из приведенного ниже списка соответствующие позиции.

- 1) Объективность – важная особенность любых выводов, сформулированных в процессе научного познания.  
 2) Истинное научное открытие сразу признается обществом.  
 3) Эмпирическое познание открывает дорогу более сложному теоретическому познанию.  
 4) Теория всегда предполагает логически построенную систему взаимосвязанных утверждений.  
 5) Любая совокупность взаимосвязанных утверждений – теория.

Ответ: \_\_\_\_\_.

5. Найдите в приведенном списке черты, присущие индустриальному обществу:

- 1) приоритет коллективистских ценностей;      2) увеличение численности рабочего класса;  
 3) растущая социальная мобильность;              4) использование информационных технологий;  
 5) глобализация экономики и финансов;              6) распространение массовой культуры.

Ответ: \_\_\_\_\_.

 Минобрнауки России МИРЭА – Российский технологический университет	Вступительное испытание по обществознанию 2019 год  Вариант № 1	УТВЕРЖДАЮ  
---	---	--

6. Установите соответствие между признаками и видами мировоззрения, для которых они характерны: к каждой позиции, данной в первом столбце, подберите соответствующую позицию из второго абзаца.

ПРИЗНАКИ	ВИДЫ МИРОВОЗЗРЕНИЯ
А) складывается на основе образного восприятия мира	1) обыденное (житейское)
Б) возникает в повседневной жизни людей в процессе удовлетворения их потребностей	2) религиозное
В) отличается одухотворением материальных предметов и явлений	3) мифологическое
Г) связано с признанием сверхъестественного начала, поддерживающего в людях надежду на получение ими того, чего они лишены в повседневной жизни	
Д) требует определенных моделей поведения, основанных на заповедях и предписаниях	

Ответ:

А	Б	В	Г	Д

7. Прочтите приведенный ниже тест, в котором пропущен ряд слов. Выберите из предлагаемого списка слова, которые необходимо вставить на место пропусков.



«Во время спада \_\_\_\_\_ (А) начинает сокращаться. Предприниматели снимают закупки сырья и материалов, увольняют рабочих, сокращают объем производства. При этом некоторые предприятия закрываются, увольняют рабочих в итоге, возрастает \_\_\_\_\_ (Б). Область вокруг низшей точки спада называется \_\_\_\_\_ (В). Это период недоиспользования экономических ресурсов, предприятия работают на грани \_\_\_\_\_ (Г), выпуск продукции продолжает снижаться. На стадии подъема деловая активность растет. Предприятия наращивают \_\_\_\_\_ (Д), создаются дополнительные рабочие места; занятость населения повышается. Это ведет к повышению уровня потребительских расходов, дальнейшему увеличению занятости и выпуска продукции. В итоге деловой цикл достигает своего \_\_\_\_\_ (Е)».

Список терминов:

- |            |                  |                 |
|------------|------------------|-----------------|
| 1) подъем; | 4) активность;   | 7) спад;        |
| 2) кризис; | 5) производство; | 8) безработица; |
| 3) спрос;  | 6) пик;          | 9) остановка.   |

Ответ:

А	Б	В	Г	Д	Е

 Минобрнауки России МИРЭА – Российский технологический университет	Вступительное испытание по обществознанию 2019 год  Вариант № 1	УТВЕРЖДАЮ  
---	---	--

8. Установите соответствие между формами общественной жизни и социальными фактами: к каждой позиции, данной в первом столбце, подберите соответствующие позиции из второго столбца.

СОЦИАЛЬНЫЕ ФАКТЫ	СФЕРЫ ОБЩЕСТВЕННОЙ ЖИЗНИ
А) использование металлических слитков в качестве эквивалента обмена	1) духовная;
Б) рост цен на пользующиеся спросом товары	2) социальная;
В) создание приключенческого романа	3) экономическая
Г) существование в современном обществе семей традиционного типа	4) политическая
Д) активное участие новгородцев в городском вече	

Ответ:

А	Б	В	Г	Д

9. Установите соответствие между примерами и видами экономических благ: к каждой позиции, данной в первом столбце, подберите соответствующие позиции из второго столбца.

ПРИМЕРЫ	ВИДЫ ЭКОНОМИЧЕСКИХ БЛАГ
А) социальная сеть в Интернете	1) общественное благо;
Б) спорткомплекс на территории санатория строителей	2) частное благо;
В) журнал «Эксперт»	
Г) первый канал телевидения	
Д) общеобразовательная муниципальная школа	

Ответ:

А	Б	В	Г	Д

10. В приведенном ниже ряду найдите понятие, которое является обобщающим для всех остальных представленных понятий.

- 1) тоталитарный режим;                      2) политический режим;    3) авторитарный режим;  
 4) демократический режим;                5) охлократия.

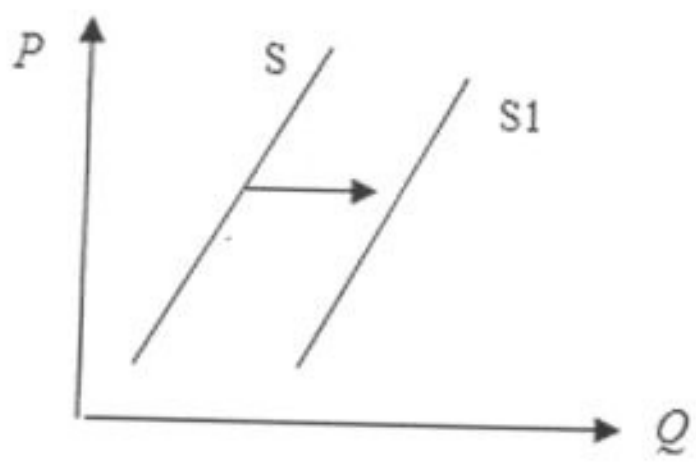
Ответ: \_\_\_\_\_.

 Минобрнауки России МИРЭА – Российский технологический университет	Вступительное испытание по обществознанию 2019 год  Вариант № 1	УТВЕРЖДАЮ  
---	---	--

11. Выберите верные суждения о безработице.
- 1) Безработицей называются периодические колебания деловой активности.
  - 2) Безработица имеет положительные последствия, так как способствует росту ВВП и доходов домохозяйств.
  - 3) В условиях безработицы нетрудоспособное население стремится найти работу и немедленно приступить к ней.
  - 4) Уровень безработицы показывает, какую долю численности рабочей силы составляет количество безработных.
  - 5) Снижению безработицы способствует создание государственной системы содействия в трудоустройстве и переподготовке кадров.

Ответ: \_\_\_\_\_.

12. На рисунке отражена ситуация на рынке экзотических фруктов: линия предложения  $S$  переместилась в новое положение  $S1$  ( $P$  – цена товара,  $Q$  – количество товара). Это перемещение может быть связано, прежде всего, с (со):



- 1) высоким урожаем экзотических фруктов;
- 2) снижением доходов потребителей;
- 3) ростом таможенных пошлин на импорт фруктов;
- 4) повышением тарифов на грузовые перевозки.

Ответ: \_\_\_\_\_.

13. По окончании колледжа студент планирует открыть индивидуальное предприятие. Найдите в приведенном списке примеры преимуществ, которые он может получить при такой форме организации бизнеса.

- 1) ограниченный риск вложения капитала;
- 2) свобода действий;
- 3) достаточно средств на рекламу;
- 4) легко управлять предприятием;
- 5) легко привлечь специалистов.

Ответ: \_\_\_\_\_.

 Минобрнауки России МИРЭА – Российский технологический университет	Вступительное испытание по обществознанию 2019 год  Вариант № 1	УТВЕРЖДАЮ  
---	---	--

14. В единый реестр юридических лиц было внесено новое публичное акционерное общество. Найдите в приведенном списке обязательные условия, которым должна соответствовать его деятельность.

- 1) привлечение средств по кредитованию;
- 2) ответственность по обязательствам всем имуществом акционеров;
- 3) размещение акций путем открытой подписки;
- 4) установление ограничения количества акций, которые могут принадлежать одному акционеру;
- 5) уплата законно установленных налогов.
- 6) заключение сделок.

Ответ: \_\_\_\_\_.

**Прочитайте текст и выполните задания (15-17).**

Политическая культура – часть общей культуры общества. Поэтому в политической культуре воплощается осмысленный, усвоенный и овеществленный опыт взаимоотношений общества, личности и властных структур, востребованный в конкретной исторической ситуации. Политическая культура исторически и социально связана с политической традицией, системой ценностей, идей и особенностей политического поведения, обеспечивающих преемственность политической жизни общества. Она формируется и проявляется в процессе политической жизни.

Сравнительно-исторический подход к изучению политических культур предполагает выявление национальных особенностей институтов даже однотипных политических культур и обусловленных национальным историческим опытом способов интеллектуального осмысления мира, традиций и привычек, закрепленных в культуре и языке (менталитета).

Политическая культура, какое бы её определение мы не принимали, в любом случае является сложной системой, существующей в определенных временных и пространственных координатах, которые необходимо учитывать в её исследованиях. Основными пространственными координатами культуры являются: степень её распространения – в региональных, национальных или цивилизационных границах; полнота и формы реализации типологических признаков; упроченность в этническом менталитете и характер проявлений на уровне личностной ментальности.

(Из книги «Эволюция политической и правовой культуры в России. Региональные особенности и влияние европейского фактора»).

15. Опираясь на текст, раскройте смысл понятия «политическая культура».

16. О каких составляющих сравнительно-исторического подхода к изучению политической культуры говорится в тексте?

17. Назовите основные пространственные координаты политической культуры.

Председатель экзаменационной комиссии по обществознанию

 О.Ф. Павлова